
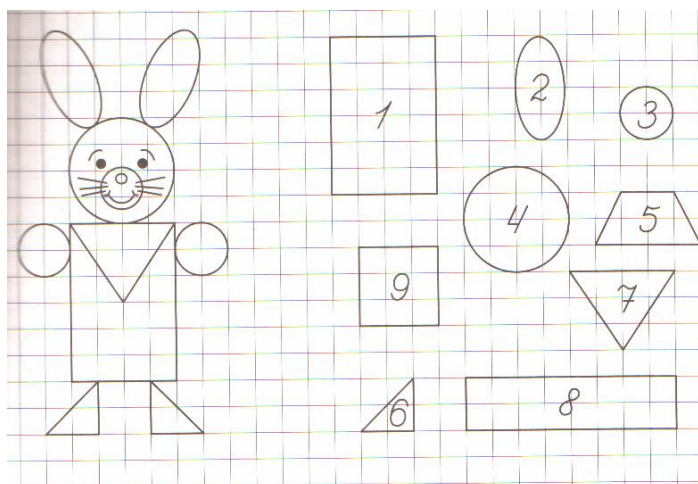


1. Сосчитай все виды предметов, реши пример и запиши ответ.



2. Напиши на рисунке номера фигур, из которых состоит заяц. Зачеркни лишние фигуры.



3. На прямой отметили 4 точки. Сколько всего получилось отрезков, концами которых являются эти точки?


4. В каждой цепочке найди закономерность и вставь пропущенные числа.

- 3,6,__,12,15,18.
- 1,8,11,18,__,28,31.
- 65,60,55,__,45,40,35.
- 20,__,21,15,22,14,23,13.
- 12,23,__,45,56.

5. Четыре друга поделили между собой поровну 7 пакетов фруктовых соков емкостью 1л, 2л, 3л, 4л, 5л, 6л, 7л. Как они это сделали? Напишите ответ.

6. В деревне Простоквашино на скамейке перед домом сидят дядя Федор, кот Матроскин, пёс Шарик и почтальон Печкин. Если Шарик сидящий крайним слева, сядет между Матроскиным и Фёдором, то Фёдор окажется крайним слева. Кто где

7. Нарисуй недостающего котёнка



8. В гнезде было 50 шмелей. Утром 15 шмелей принялись за ремонт гнезда, несколько шмелей помогли матке, а 30 шмелей полетели за нектаром. Сколько шмелей помогало матке ухаживать за личинками?

9. В комнате 4 угла. В каждом углу сидит кошка. Напротив каждой кошки по три кошки. На хвосте у каждой кошки по одной кошке. Сколько же всего кошек в комнате?

10. Магический квадрат.

Впишите в клетки числа так, чтобы их сумма по вертикали, горизонтали и диагонали была равна 15.

4		
	5	
2		